

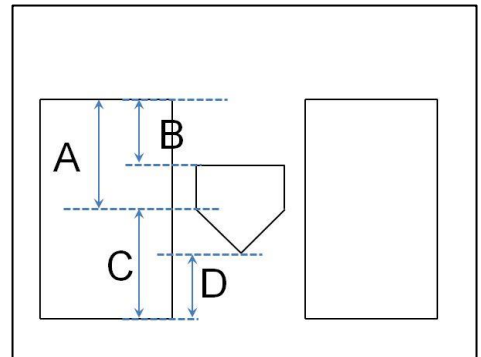
少年野球ルールクイズ 中級編(2-1)

★★★ 北本市少年野球連盟 ★★★

(問題 1) バッターボックスの大きさとして、正しいのはどれでしょうか？

1. B=30cm、D=40cm
2. A=60cm、D=30cm
3. A=75cm、C=75cm

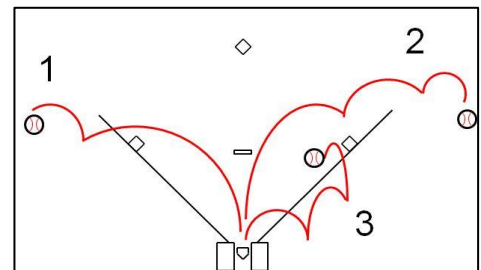
答え()



(問題 2) 次の打球(だきゅう)のうち、ファールはどれでしょうか？

1. 内野(ないや)のフェアグラウンドをフライで飛びこえて、外野(がいや)のファールグラウンドに落ちました。
2. 外野のフェアグラウンドに落ちて、ファールグラウンドにころがっていきました。
3. 内野のファールグラウンドにゴロでころがりましたが、内野のフェアグラウンドに戻ってきました。

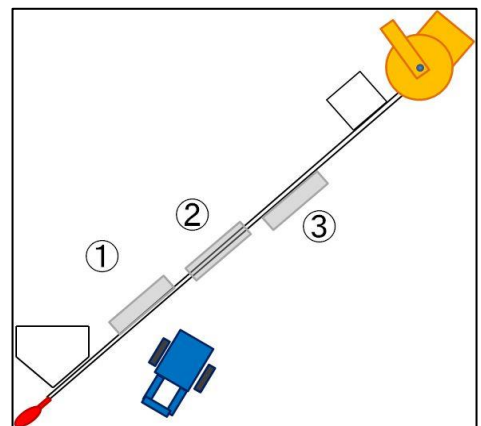
答え()



(問題 3) ホームベースの位置を決め、1塁までの塁間の長さを測(はか)りました。次にこの線をラインカーで引こうと思いますが、ラインを引く際の注意点はなんですか？

1. 図の1のように、ラインは巻尺をはっているラインより、マウンドより、内側に沿って、引く。
2. 図の2のように、ラインの中心が巻尺と同じになるように引く。
3. 図の3のように、ラインは巻尺のラインよりマウンド外側に沿って引く。

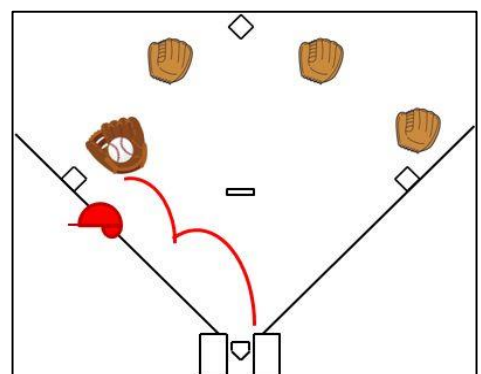
答え()



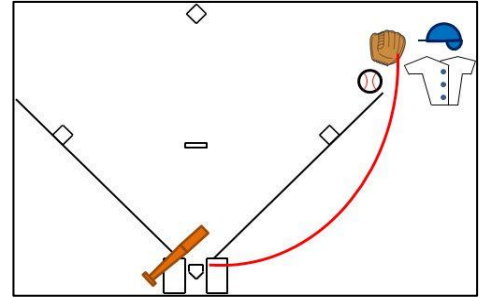
(問題 4) 2アウトランナー3塁です。バッターが3塁にゴロを打ちました。このとき正しいプレーはどれでしょうか？

1. 3塁ランナーは、サードがゴロをとってファーストに投げたら、すきを見てホームをねらう。
2. サードは、ボールを取ったらすぐにホームへ投げる。
3. サードランナーは、サードがどこに投げるか気にしないでホームへ向かった。

答え()



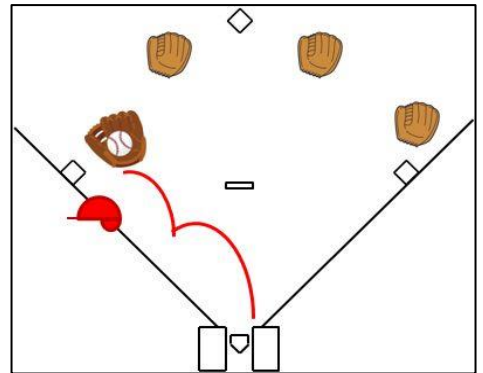
(問題 5) 外野へ飛んだフライ、ファールグラウンドからフェアグラウンドに風で流されました。図のように、ファールグラウンドにいたライトが、ボールに追いつきましたが、ボールを落としてボールはフェアグラウンドをころがりました。このときの判定として正しいのはどれでしょうか？



1. ライトはファールグラウンドにいたので、ファールになる。
2. ボールが最初に落ちた位置がファールグラウンドだったらファール、フェアグラウンドだったらフェアになる。
3. ボールを最初にさわった位置が、ファールグラウンドの上であったらファール、フェアグラウンドの上であったらフェアになる。

答え()

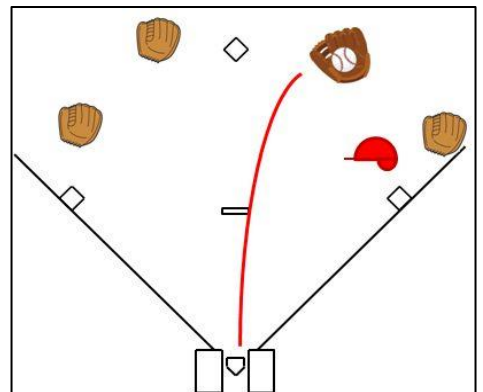
(問題 6) 1アウトランナー3塁です。あなたは3塁ランナーです。バッターが打った打球は、強い当たりの3塁へのゴロでした。このときのプレーで正しいのはどれでしょうか？



1. ホームと3塁の間にわざとはさまれて、バッターが進塁できるようにした。
2. 打球が早いと判断して3塁にとどまった。
3. バッターが打つのと同時にホームへ全力で走った。

答え()

(問題 7) 1アウトランナー1塁です。あなたは1塁ランナーです。バッターの打球がセカンドヘライナーとなって飛んで行きました。このときのプレーで正しいのはどれでしょうか？



1. こんなこともあろうかと、初めからリードをしていなかったの、そのまま1塁ベースの上にいる。
2. 1塁に戻(もど)れる位置(いち)で打球をみている。
3. バッターが1塁に走ってくるので、2塁へ向かった。

答え()

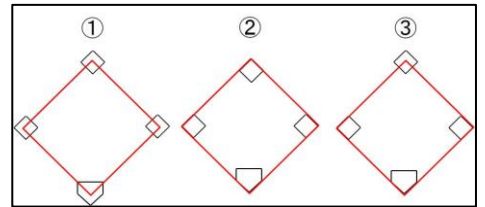
(問題 8) 次のうち、フォースプレーとなるのはどれでしょうか？

1. 満塁(まんるい)でバックホーム
2. 1・3塁でバックホーム
3. 2・3塁で3塁への送球

答え()

(問題 9) 塁間(るいかん)の距離を図の赤い線のように測(はか)ったとして、ベースはどのように置くでしょうか？

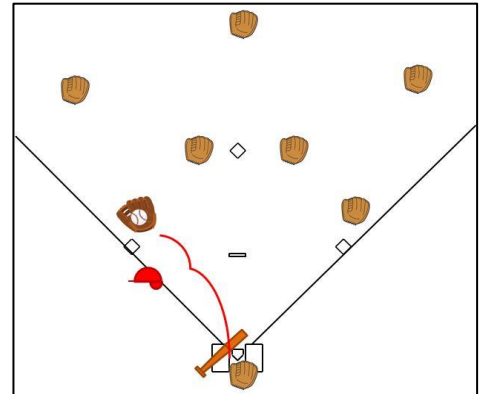
1. 図の①のように、ベースの真ん中が塁間の長さになるようにする。
2. 図の②のように、塁間の長さでできる正方形の内側にベースが入るように置く。
3. 図の③のように、ホームと1塁と3塁は塁間の長さでできる正方形の内側になるように置くが、セカンドベースはベースの真ん中が正方形の角になる。



答え()

(問題10) ツーアウト3塁、あなたは3塁の守備です。3塁ゴロをとりました。3塁ランナーはスタートダッシュが早く、1塁でアウトを取るよりも早くにホームを踏みそうです。このときサードの守備のあなたはどのようにしますか？

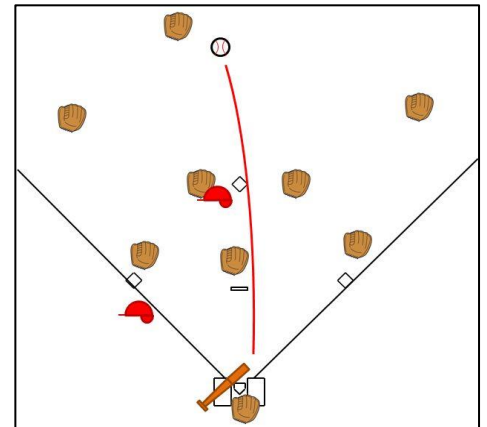
1. ホームに投げれば3塁ランナーをアウトにできそうなので、キャッチャーにボールを投げた。このときキャッチャーはベースを踏めばアウトを取れる。
2. ホームに投げれば3塁ランナーをアウトにできそうなので、キャッチャーにボールを投げた。このときキャッチャーはランナーにタッチをしなければいけない。
3. 1塁に投げた。



答え()

(問題11) 1アウトランナー2・3塁です。バッターがジャストミートして、すどく大きなライナーの打球(だきゅう)がセンターに飛びました。さてランナーはどうするでしょうか？

1. すぐさま次の塁を目指す。
2. 打球を見極(みきわ)めるために、塁と塁の間くらいで待つ。
3. ベースを踏んで待つ。



答え()